



Guía de autoaprendizaje N°3 Matemática

1° básicos

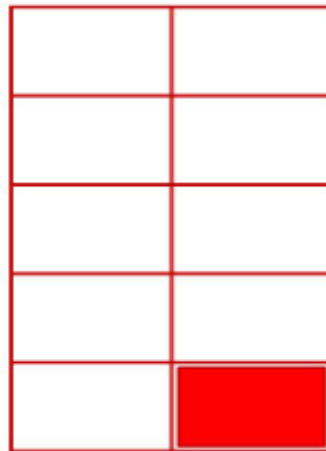

OA1: Contar números del 0 al 100 de 1 en 1, de 2 en 2, de 5 en 5 y de 10 en 10, hacia adelante y hacia atrás, empezando por cualquier número menor que 100.



OA6: Componer y descomponer números del 0 al 20 de manera aditiva, en forma concreta, pictórica y simbólica.

➤ Observa:

- Haz click en el enlace:
 - ✓ Unidad: <https://www.youtube.com/watch?v=rTTdvPIZYL4>
 - ✓ Decena: <https://www.youtube.com/watch?v=vXwLqORlgFM> (para niños)
- En compañía de un adulto haz click en este enlace. https://www.youtube.com/watch?v=O115K_qb6h0 el cual te explicará de manera más concreta las unidades y las decenas y/o la formación de estas

10 unidades = 1 decena





- ✓ Actividad práctica: En compañía de un adulto, deberás practicar la composición de decenas con la cantidad de unidades que corresponda.

Materiales sugeridos

- ❖ 1 hoja de block o de oficio blanca.
- ❖ Lápices de colores o plumones
- ❖ Palitos de helado de colores





Indicaciones

- ❖ Dividir la hoja de block u oficio en dos, de forma horizontal. Colocar en el lado izquierdo decenas y en el lado derecho unidades, de manera que quede así.

Decenas	Unidades

- ❖ Con los palitos de helado ir formando los siguientes ejercicios.

- 1 decena 0 unidad = 10
- 1 decena 1 unidad = 11
- 1 decena 2 unidad = 12
- 1 decena 3 unidad = 13
- 1 decena 4 unidad = 14
- 1 decena 5 unidad = 15
- 1 decena 6 unidad = 16
- 1 decena 7 unidad = 17
- 1 decena 8 unidad = 18
- 1 decena 9 unidad = 19
- 2 decena 0 unidad = 20

ATENCIÓN: puedes utilizar diferentes tipos de elementos para poder practicar, por ejemplo: legos, legumbres, juguetes, calcetines. Así aprendemos de forma más entretenida.





Apliquemos lo aprendido ejercitando.

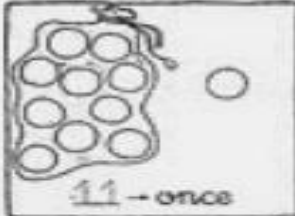
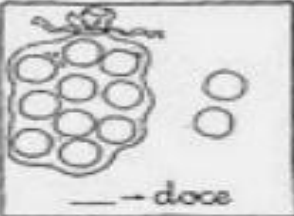
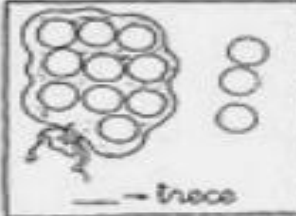

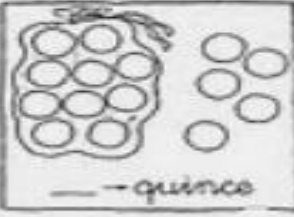
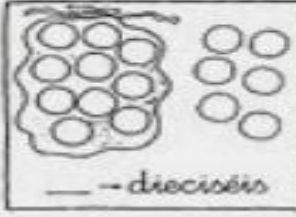
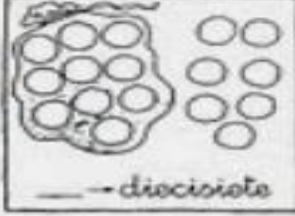
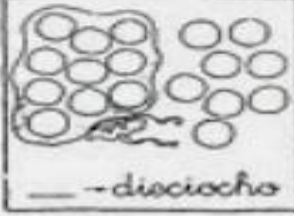
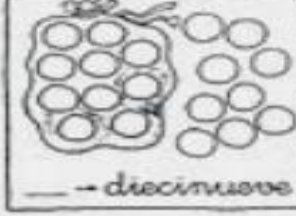
UNIDADES Y DECENAS

Hasta el 19

1.- Cuenta la cantidad de pelotitas y completa sobre la línea con el número que corresponda.

10 → diez

■ Completa.

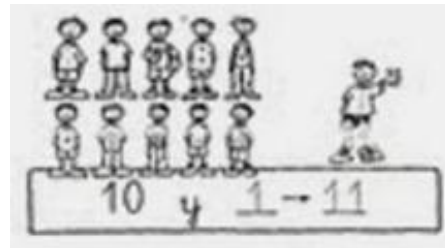
 11 → once	 — → doce	 — → trece
 — → catorce	 — → quince	 — → dieciséis
 — → diecisiete	 — → dieciocho	 — → diecinueve

11	12	13
14	15	16
17	18	19





2.- Identifica y escribe el número que falta en los espacios para completar el ejercicio. Sigue el ejemplo dado.



<p>10 + 2 = —</p>	<p>10 + — = —</p>
<p>10 + — = —</p>	<p>10 + — = —</p>
<p>10 + — = —</p>	<p>10 + — = —</p>
<p>10 + — = —</p>	<p>10 + — = —</p>







3.- Cuenta las decenas y las unidades. Luego pinta el dígito representado.

4.- Encierra la cantidad según indique la imagen y escribe el número que corresponda en el

a)



1 decena y 5 unidades



b)



1 decena y 2 unidades





5.- Encierra en grupos de 10. Completa los tableros de valor posicional con las decenas y unidades.




D	U



D	U



D	U



D	U





6. Armamos un puzzle

En compañía de un adulto, lee la cantidad de decenas y unidades y completa el con el número que se forma.

1 decenas 4 9 unidades <input type="text"/>	1 decenas 4 0 unidades <input type="text"/>	0 decenas 4 5 unidades <input type="text"/>	0 decenas 4 7 unidades <input type="text"/>
1 decenas 4 4 unidades <input type="text"/>	0 decenas 4 2 unidades <input type="text"/>	2 decenas 4 5 unidades <input type="text"/>	2 decenas 4 0 unidades <input type="text"/>
2 decenas 4 3 unidades <input type="text"/>	2 decenas 4 1 unidad <input type="text"/>	2 decenas 4 4 unidades <input type="text"/>	2 decenas 4 6 unidades <input type="text"/>
2 decenas 4 2 unidades <input type="text"/>	2 decenas 4 8 unidades <input type="text"/>	2 decenas 4 7 unidades <input type="text"/>	2 decenas 4 9 unidades <input type="text"/>





Luego, recorta cada recuadro de esta imagen y pégalo en el número que corresponda en la actividad anterior.

Así lograrás armar el puzzle.

